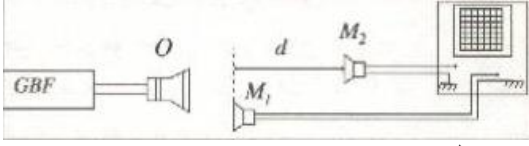


تصحيح تمارين الموجة الميكانيكية المتوالية

تمرين 1:



- 1 - تحديد Δt مدة تشويبه نقطة M من وسط الانتشار :
نصل مكبر الصوت بمولد التردد المنخفض GBF و نصل
الميكروفونين M_1 و M_2 بكاشف التذبذب مبيانيا نجد :
 $\Delta t = 0,1 \text{ ms}$
- 2 - تستغرق الموجة فوق الصوتية لتقطع المسافة d بين الميكروفونين المدة $\Delta t = 0,42 \text{ ms}$.
- 3 - بما أن الموجة فوق الصوتية تنتشر بسرعة ثابتة فإن :

$$V = \frac{d}{\Delta t} \Rightarrow d = V \cdot \Delta t = 340 \times 0,42 \cdot 10^{-3} = 0,14 \text{ m}$$

تمرين 2:

- 1 - تقطع الموجة خلال المدة $\Delta t = t_1 - t_0 = t_1 = 0,4 \text{ s}$ المسافة $d = 4 \text{ m}$ حيث :

$$V = \frac{d}{\Delta t} = \frac{4}{0,4} = 10 \text{ m.s}^{-1}$$

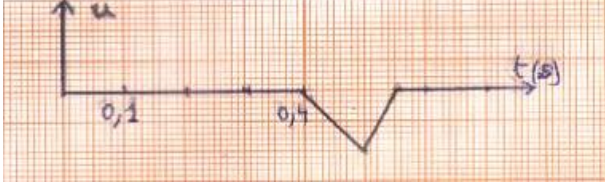
- 2 - كل نقطة من وسط الانتشار تتحرك رأسيا عندما يصلها التشويبه ثم تعود الى موضعها البدئي ,
لكن $\Delta t'$ مدة التي يستغرقها التشويبه و L طول التشويبه .

$$V = \frac{L}{\Delta t'} \Rightarrow \Delta t' = \frac{L}{V} = \frac{1,5}{10} \Rightarrow \Delta t' = 0,15 \text{ s}$$

- 3 - اللفة N تعيد نفس الحركة المنبع S بعد تأخر زمني τ ،

$$Y_M(t) = Y_S(t - \tau)$$

- عند اللحظة $t_1 = 0,4 \text{ s}$ تصل مقدمة الموجة الى اللفة N
وتستغرق اللفة في الحركة مدة $0,15 \text{ s}$ أي تنتهي من
الحركة عند $t = 0,55 \text{ s}$ (انظر الميال)



تمرين 3:

- 1 - انطلاقا من المقطع الرأسي لسطح الماء يتبين أن اتجاه التشويبه عمودي على اتجاه انتشار الموجة .
- 2 - مقدمة الموجة قطعت المسافة $d = SM = 9 \text{ m}$ خلال المدة $\Delta t = t_2 = 4,5 \text{ s}$ وبالتالي سرعة الانتشار نكتب :

$$V = \frac{SM}{t_1} = \frac{9}{4,5} = 2 \text{ m.s}^{-1}$$

- 3 - كل نقطة من سطح الماء تتحرك رأسيا عندما تصلها الموجة ثم تصبح ساكنة عندما تغادرها الموجة .

$$\Delta t' = \frac{L}{V} = \frac{2}{2} = 1 \text{ s} ; \text{ أي } L = V \cdot \Delta t' : \text{ تربطهما العلاقة :}$$

- 4 - عند اللحظة $t' = 2,5 \text{ s}$ تصل مقدمة الموجة الى نقطة P من سطح الماء تبعد عن المنبع S بالمسافة SP حيث :
 $SP = V \cdot t' = 2 \times 2,5 = 5 \text{ m}$

- 5 - التأخر الزمني τ لحركة النقطة N بالنسبة ل M يكتب :

$$\tau = \frac{MN}{V} = \frac{12}{2} = 6 \text{ s}$$

تمرين 4:

- 1 - بما أن توتر الحبل يساوي وزن الكتلة المعلمة فان $P = T$ مع $P = mg$

$$T = mg = 0,235 \times 9,8 = 2,3 \text{ N}$$

- 2 - الكتلة الطولية μ للحبل هي حاصل قسمة كتلته M على طوله L ، نكتب:

$$\mu = \frac{M}{L} = \frac{0,176}{11} = 16 \cdot 10^{-3} \text{ kg.m}^{-1} = 16 \text{ g.m}^{-1}$$

- 3 - سرعة انتشار الموجة نحددها بالعلاقة :

$$V = \sqrt{\frac{T}{\mu}} = \sqrt{\frac{2,3}{16 \cdot 10^{-3}}} = 12 \text{ m.s}^{-1}$$

- 4 - تنتشر الموجة طول الحبل بسرعة ثابتة حيث : $V = \frac{d}{\tau}$ حيث τ هي المدة التي استغرقتها الموجة لقطع المسافة $d = AB$

$$\tau = \frac{d}{V} = \frac{8,2 \cdot 10^{-2}}{12} = 6,8 \cdot 10^{-3} \text{ s} = 6,8 \text{ ms}$$

- نسمي τ التأخر الزمني ل B بالنسبة ل A .

- 5 - حسب تعبير السرعة : $V = \sqrt{\frac{T}{\mu}} = \sqrt{\frac{mg}{\mu}}$ يتبين أن تزايد الكتلة m يؤدي الى تزايد السرعة V .

- 6 - نبحت عن الكتلة m' المضافة ل m لتضاعف السرعة نكتب اذن :

$$V' = 2V = \sqrt{\frac{m+m'}{\mu}} \Rightarrow 4V^2 = \frac{(m+m')g}{\mu} \Rightarrow (m+m')g = 4\mu V^2 \Rightarrow m + m' = \frac{4\mu V^2}{g}$$

$$m' = \frac{4\mu V^2}{g} - m \Rightarrow m' = \frac{4 \times 16 \cdot 10^{-3} \times 12^2}{9,8} - 0,235 = 0,705 \text{ kg} = 705 \text{ g}$$

الطريقة الثانية :

$$2V = \sqrt{\frac{(m+m')g}{\mu}} \Leftrightarrow 2 \sqrt{\frac{mg}{\mu}} = \sqrt{\frac{(m+m')g}{\mu}}$$

$$4 \frac{mg}{\mu} = \frac{(m+m')g}{\mu} \Leftrightarrow 4m = m+m'$$

$$m' = 4m - m = 3m = 3 \times 235 = 705 \text{ g}$$

تمرين 5:

- 1 - عندما تصل الموجة الى النقطة M تبدأ هذه الأخيرة في الحركة (أي يتغير أرتوبها) حسب المبيان $t_1 = 2 \text{ ms}$
- 2 - تقطع الموجة المسافة : $OM = x_M = 8 \text{ cm}$ خلال المدة : $\Delta t = t_1 = 2 \text{ ms}$ ، سرعة انتشار الموجة نكتب :

$$V = \frac{OM}{t_1} = \frac{8 \cdot 10^{-2}}{2 \cdot 10^{-3}} = 40 \text{ m} \cdot \text{s}^{-1}$$
- 3 - 1-3 - حسب المبيان تبدأ النقطة M الحركة عند اللحظة 2 ms وتتوقف عند اللحظة 5 ms وبالتالي مدة التشويه هي :

$$\Delta t' = 5 - 2 = 3 \text{ ms}$$

2-3 - حسب سرعة انتشار الموجة نكتب : $V = \frac{L}{\Delta t}$ حيث L طول التشويه و $\Delta t'$ مدة التشويه .

$$L = V \cdot \Delta t' = 40 \times 3 \cdot 10^{-3} = 0,12 \text{ m}$$

- 4 - 1-4 - التأخر الزمني للنقطة N بالنسبة للنقطة M هو المدة التي تستغرقها الموجة لقطع المسافة MN .

$$\tau = \frac{MN}{V} = \frac{x_N - x_M}{V} = \frac{(32 - 8) \cdot 10^{-2}}{40} = 6 \cdot 10^{-3} \text{ s} = 6 \text{ ms}$$

2-4 - تصل الموجة الى النقطة N عند اللحظة t_2

حيث :

$$t_2 = t_1 + \tau = 2 + 6 = 8 \text{ ms}$$

الطريقة الثانية : تقطع الموجة المسافة ON خلال

المدة t_2 حيث :

$$t_2 = \frac{ON}{V} = \frac{32 \cdot 10^{-2}}{40} = 8 \cdot 10^{-3} \text{ s} = 8 \text{ ms}$$

3 4 - نستنتج تغيرات النقطة N انطلاقا من تغيرات النقطة M وذلك بازاحة أفقية بمقدار τ .

5- تمثيل مظهر الحبل عند اللحظة t_2 :

- عند اللحظة $t_2 = 8 \text{ ms}$ تصل مقدمة

- الموجة الى النقطة N ذات الأصول x_N

$$x_N = 32 \text{ cm}$$

- طول التشويه هو $L = 12 \text{ cm}$ فنهايته P

$$x_P = x_N - L = 20 \text{ cm}$$

- طول الحبل ذي الأرتوب السالب :

حسب المنحنى يكون $Y < 0$ خلال المدة

$\Delta t_1 = 1 \text{ ms}$ حيث طول الحبل يكون :

$$L_1 = V \cdot \Delta t_1 =$$

$$40 \times 10^{-3} = 4 \cdot 10^{-2} \text{ m} = 4 \text{ cm}$$

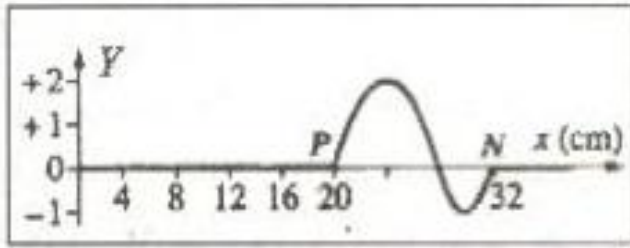
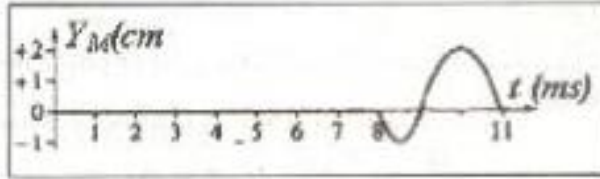
- طول الحبل ذي الأرتوب الموجب :

حسب المنحنى يكون $Y > 0$ خلال المدة : $\Delta t_2 = 2 \text{ ms}$ حيث طول الحبل يكون :

$$L_2 = V \cdot \Delta t_2 = 40 \times 2 \cdot 10^{-3} = 8 \cdot 10^{-2} \text{ m} = 8 \text{ cm}$$

نستنتج أنه خلال 1 ms الأولى ينتقل التشويه بمسافة 4 cm بأرتوب سالب ثم يصبح موجبا خلال المسافة 8 cm

المتبقية من طول التشويه .



منتديات علوم الحياة و الأرض بأصيلة