

1- الجداء السلمي (تذكير وإضافات)

1-1- أنشطة

1- نعتبر في المستوى المنسوب إلى المعلم متعامد منظم النقط $C(-1;-3)$; $B(3;2)$; $A(1;-2)$

أحسب AB ; $\|3\overrightarrow{AC}\|$; $\|-2\overrightarrow{AB} + 3\overrightarrow{AC}\|$

2- نعتبر في المستوى المنسوب إلى المعلم متعامد منظم المستقيمين

$(\Delta): 2x - y - 3 = 0$; $(D): x + 2y - 4 = 0$

أ- حدد إحداثيتي النقطة A ، تقاطع (Δ) و (D)

ب- تأكد أن $B(-2;3) \in (D)$ و $C(1;-1) \in (\Delta)$

قارن BC^2 و $AB^2 + AC^2$

أحسب $\overrightarrow{AB} \cdot \overrightarrow{AC}$

ماذا تستنتج

3- A و B نقطتان مختلفتان من المستوى (P) ، قياس الزاوية \widehat{AOB} و $\overrightarrow{OA} = \vec{u}$; $\overrightarrow{OB} = \vec{v}$

(a) أحسب $\vec{u} \cdot \vec{v}$ في الحالتين التاليتين

$\alpha = \frac{\pi}{3}$; $\|\vec{v}\| = 5$; $\|\vec{u}\| = 6$

$\alpha = \frac{5\pi}{6}$; $\|\vec{v}\| = 5$; $\|\vec{u}\| = \sqrt{3}$

(b) حدد α في الحالتين التاليتين

$\vec{u} \cdot \vec{v} = 6\sqrt{2}$; $\|\vec{v}\| = 4$; $\|\vec{u}\| = 3$

$\vec{u} \cdot \vec{v} = -6$; $\|\vec{v}\| = 4$; $\|\vec{u}\| = 3$

4- لتكن \vec{u} و \vec{v} متجهتين حيث $\vec{v}^2 = 5$; $\vec{u}^2 = 3$ و $\vec{u} \cdot \vec{v} = -2$

أحسب $(3\vec{u} - \vec{v}) \cdot (2\vec{u} + \vec{v})$

2- تعاريف

أ- الجداء السلمي لمتجهتين

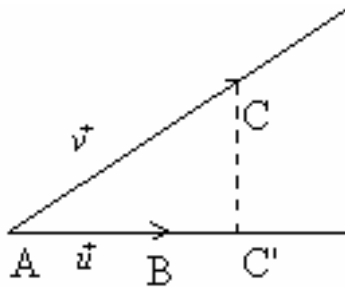
(a) تعريف

لتكن \vec{u} و \vec{v} متجهتين غير منعدمتين . نعتبر A و B و C ثلاث نقط من المستوى حيث

$\overrightarrow{AB} = \vec{u}$; $\overrightarrow{AC} = \vec{v}$ و C' المسقط العمودي لـ C على (AB)

الجداء السلمي للمتجهتين الغير المنعدمتين \vec{u} و \vec{v} هو العدد الحقيقي $\vec{u} \cdot \vec{v}$ بحيث

$\vec{u} \cdot \vec{v} = \overrightarrow{AB} \cdot \overrightarrow{AC} = \overrightarrow{AB} \times \overrightarrow{AC}'$



(b) لتكن \vec{u} و \vec{v} متجهتين غير منعدمتين و θ القياس الرئيسي للزاوية (\vec{u}, \vec{v}) و O نقطة من المستوى ، توجد

نقطتان وحيدتان حيث $\overrightarrow{OA} = \vec{u}$; $\overrightarrow{OB} = \vec{v}$

بما أن $-\pi < \theta \leq \pi$ فإن $|\theta|$ هو قياس للزاوية الهندسية \widehat{AOB}

$$\vec{u} \cdot \vec{v} = OA \times OB \cos \widehat{AOB} \text{ ومنه}$$

$$\vec{u} \cdot \vec{v} = \|\vec{u}\| \|\vec{v}\| \cos |\theta|$$

$$\cos \theta = \cos(-\theta) \text{ لأن } \vec{u} \cdot \vec{v} = \|\vec{u}\| \|\vec{v}\| \cos \theta \text{ إذن}$$

ليكن α قياس للزاوية الموجهة $(\vec{u}; \vec{v})$

$$\cos \theta = \cos \alpha \text{ و بالتالي } \theta \equiv \alpha \text{ [} 2\pi \text{] ومنه}$$

$$\vec{u} \cdot \vec{v} = \|\vec{u}\| \|\vec{v}\| \cos \alpha \text{ إذن}$$

تعريف

الجداء السلمي للمتجهين الغير المنعدمتين \vec{u} و \vec{v} هو العدد الحقيقي $\vec{u} \cdot \vec{v}$ بحيث $\vec{u} \cdot \vec{v} = \|\vec{u}\| \|\vec{v}\| \cos \alpha$ قياس للزاوية الموجهة $(\vec{u}; \vec{v})$.

ملاحظة

*- إذا كانت \vec{u} أو \vec{v} منعدمة فإن $\vec{u} \cdot \vec{v} = 0$

*- إذا كانت \vec{u} و \vec{v} غير منعدمتين فإن $\cos \alpha = \frac{\vec{u} \cdot \vec{v}}{\|\vec{u}\| \|\vec{v}\|}$

تمرين أحسب $\vec{u} \cdot \vec{v}$ حيث $\frac{-89\pi}{6}$ أحد قياسات الزاوية الموجهة $(\vec{u}; \vec{v})$ و $\|\vec{u}\| = 3$; $\|\vec{v}\| = 4$

ب - خاصيات

مهما كانت المتجهات \vec{u} و \vec{v} و \vec{w} و العدد الحقيقي α

$$\vec{u} \cdot \vec{v} = \vec{v} \cdot \vec{u}$$

$$(\vec{u} + \vec{v}) \cdot \vec{w} = \vec{u} \cdot \vec{w} + \vec{v} \cdot \vec{w}$$

$$\vec{w} \cdot (\vec{u} + \vec{v}) = \vec{w} \cdot \vec{u} + \vec{w} \cdot \vec{v}$$

$$(\alpha \vec{u}) \cdot \vec{v} = \vec{u} \cdot (\alpha \vec{v}) = \alpha (\vec{u} \cdot \vec{v})$$

ج- تعامد متجهتين

$$\vec{u} \perp \vec{v} \Leftrightarrow \vec{u} \cdot \vec{v} = 0$$

II- صيغ تحليلية

1- الصيغة التحليلية للجداء السلمي

خاصية

المستوى (P) منسوب إلى معلم متعامد ممنظم $(O; \vec{i}; \vec{j})$.

إذا كانت $\vec{u} = x\vec{i} + y\vec{j}$ و $\vec{v} = x'\vec{i} + y'\vec{j}$ فإن $\vec{u} \cdot \vec{v} = xx' + yy'$

ملاحظة إذا كان $\vec{u}(x; y)$ بالنسبة لأساس متعامد ممنظم

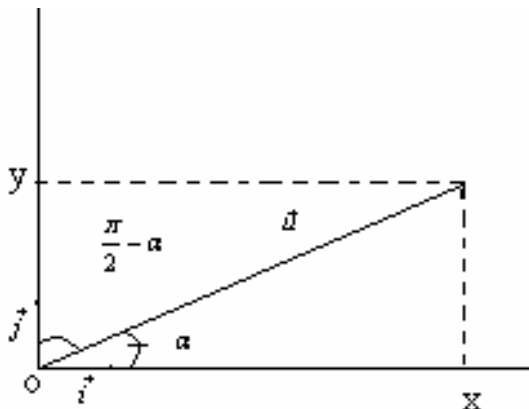
$$(\vec{i}; \vec{j}) \text{ فإن } \vec{u} \cdot \vec{i} = x \text{ ; } \vec{u} \cdot \vec{j} = y$$

أمثلة أحسب $\vec{u} \cdot \vec{v}$ في الحالات.....

2- إحداثيات متجهة في أساس متعامد ممنظم مباشر

ليكن $\vec{u}(x; y)$ بالنسبة لمعلم متعامد ممنظم

مباشر $(O; \vec{i}; \vec{j})$ و α قياس $(\vec{i}; \vec{u})$



$$\text{لدينا } y = \vec{u} \cdot \vec{j} \quad ; \quad x = \vec{u} \cdot \vec{i}$$

$$\text{ومنه } y = \|\vec{u}\| \|\vec{j}\| \cos\left(\frac{\pi}{2} - \alpha\right) \quad x = \|\vec{u}\| \|\vec{i}\| \cos \alpha$$

$$\text{إذن } y = \|\vec{u}\| \sin \alpha \quad x = \|\vec{u}\| \cos \alpha$$

خاصية

إذا كان $(x; y)$ زوج إحداثياتي متجهة غير منعدمة \vec{u} بالنسبة لأساس متعامد ممنظم مباشر $(\vec{i}; \vec{j})$ و α

$$\vec{u} = \|\vec{u}\| (\cos \alpha \vec{i} + \sin \alpha \vec{j})$$

قياس $(\widehat{i; \vec{u}})$ فان

حالة خاصة

إذا كانت \vec{u} متجهة واحدة (أي $\|\vec{u}\| = 1$) فان $\vec{u} = \cos \alpha \vec{i} + \sin \alpha \vec{j}$

3- الصيغة التحليلية لمنظم متجهة و لمسافة نقطتين

* إذا كان $(x; y)$ زوج إحداثياتي \vec{u} بالنسبة لأساس متعامد ممنظم $(\vec{i}; \vec{j})$ فان $\|\vec{u}\| = \sqrt{x^2 + y^2}$

* إذا كان $A(x_A, y_A)$ و $B(x_B, y_B)$ بالنسبة لمعلم متعامد ممنظم $(O; \vec{i}; \vec{j})$ فان

$$AB = \sqrt{(x_B - x_A)^2 + (y_B - y_A)^2}$$

4- الشرط التحليلي لتعامد متجهتين

خاصية

المستوى (P) منسوب إلى معلم متعامد ممنظم $(O; \vec{i}; \vec{j})$.

\vec{u} و \vec{v} متجهتان حيث $\vec{u} = x\vec{i} + y\vec{j}$ و $\vec{v} = x'\vec{i} + y'\vec{j}$

$$\vec{u} \perp \vec{v} \Leftrightarrow xx' + yy' = 0$$

تمرين

حدد المتجهات الواحدة و المتعامدة مع $\vec{u}(-1; 2)$

$$\begin{cases} \vec{u} \perp \vec{v} \\ \|\vec{v}\| = 1 \end{cases} \Leftrightarrow \begin{cases} -x + 2y = 0 \\ x^2 + y^2 = 1 \end{cases} \dots\dots\dots$$

تمرين نعتبر $A(1; 3)$ $B(3; 1)$ $C(-3; -1)$

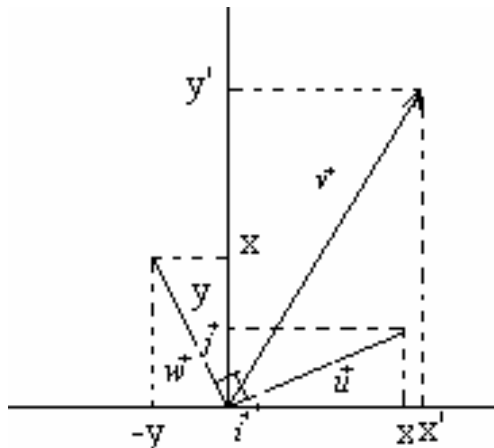
بين أن ABC قائم الزاوية في A

5- حساب $\sin \theta$ و $\cos \theta$

* المستوى (P) منسوب إلى معلم متعامد ممنظم $(O; \vec{i}; \vec{j})$.

إذا كانت $\vec{u} = x\vec{i} + y\vec{j}$ و $\vec{v} = x'\vec{i} + y'\vec{j}$ و θ قياس $(\widehat{u; v})$ فان $\cos \theta = \frac{\vec{u} \cdot \vec{v}}{\|\vec{u}\| \|\vec{v}\|} = \frac{xx' + yy'}{\sqrt{x^2 + y^2} \sqrt{x'^2 + y'^2}}$

* نعتبر المتجهة \vec{w} بحيث $(\widehat{u; w}) = \frac{\pi}{2}$ $[2\pi]$ $\|\vec{u}\| = \|\vec{w}\|$



لدينا باستعمال علاقة شال $\overline{(\vec{v}; \vec{w})} = \overline{(\vec{u}; \vec{w})} - \overline{(\vec{u}; \vec{v})}$

$$\overline{(\vec{v}; \vec{w})} = \frac{\pi}{2} - \theta$$

$$\cos\left(\frac{\pi}{2} - \theta\right) = \sin \theta \quad \text{نعلم أن}$$

$$\sin \theta = \frac{\vec{v} \cdot \vec{w}}{\|\vec{w}\| \|\vec{v}\|}$$

لدينا $\vec{v} \cdot \vec{w} = xy' - yx' = \det(\vec{u}; \vec{v})$

$$\sin \theta = \frac{\det(\vec{u}; \vec{v})}{\|\vec{u}\| \|\vec{v}\|} = \frac{xy' - x'y}{\sqrt{x^2 + y^2} \sqrt{x'^2 + y'^2}} \quad \text{إذن}$$

تمرين

ليكن θ القياس الرئيسي للزاوية $\widehat{(\vec{u}; \vec{v})}$ حيث $\vec{u}(-\sqrt{3}; -3)$ و $\vec{v}(-1; \sqrt{3})$. حدد θ .

III- معادلة مستقيم معرف بمتجهة منتظمة

1- متجهة منتظمة

تعريف (D) مستقيم في المستوى، كل متجهة غير منعدمة عمودية على متجهة موجهة للمستقيم (D) تسمى متجهة منتظمة على المستقيم (D).

2- خاصيات

- * إذا كانت \vec{n} منتظمة على (D) فإن كل متجهة $k\vec{n}$ ($k \in \mathbb{R}^*$) منتظمة عليه.
- * إذا كانت \vec{n} و \vec{n}' متجهتين منتزعتين على مستقيم (D) فإنهما تكونان مستقيمتين.
- * إذا كانت $\vec{u}(a; b)$ موجهة ل (D) فإن المتجهة $\vec{n}(-b; a)$ منتظمة عليه.

2- معادلة مستقيم معرف بنقطة و متجهة منتظمة عليه

$\vec{n}(a; b)$ متجهة غير منعدمة و $A(x_0; y_0)$ نقطة من المستوى لتكن M نقطة

$$\overline{AM} \perp \vec{n} \Leftrightarrow \overline{AM} \cdot \vec{n} = 0$$

$\Leftrightarrow M$ تنتمي إلى المستقيم المار من A و الموجه

ب المتجهة $\vec{u}(-b; a)$.

إذن مجموعة النقط M من المستوى التي تحقق $\overline{AM} \cdot \vec{n} = 0$ هي المستقيم المار من A و الموجه ب $\vec{u}(-b; a)$

معادلته ستكون على شكل $ax + by + c = 0$

خاصية

لتكن $\vec{n}(a; b)$ متجهة غير منعدمة و $A(x_0; y_0)$ نقطة من المستوى.

مجموعة النقط M من المستوى التي تحقق $\overline{AM} \cdot \vec{n} = 0$ هي المستقيم المار من A و الموجه ب $\vec{u}(-b; a)$

خاصية

إذا كانت $\vec{n}(a; b)$ منتظمة على (D) فإن معادلة (D) على شكل $ax + by + c = 0$

إذا كان $ax + by + c = 0$ (D): فإن $\vec{n}(a; b)$ منتظمة على (D)

تمرين

1- حدد متجهة منتظمة لكل مستقيم من المستقيمتين التاليتين

$$(D_1): 3x - 2y + 1 = 0 \quad ; \quad (D_2): 2y - 1 = 0$$

$$(D_3): x - 3 = 0$$

2- حدد المستقيم المار من $A(-1; 3)$ و $\vec{n}(4; 3)$ منتظمة عليه

تمرين

- في مستوى منسوب إلى معلم متعامد ممنظم نعتبر $A(2;1)$ و $B(0;1)$ و $C(-2;3)$ و $\vec{u}(-2;5)$
- 1- حدد معادلة للمستقيم (D) المار من A و \vec{u} منظمية عليه
 - 2- أ) حدد معادلة ديكارتية لواسط $[A;B]$
ب) حدد Ω تقاطع واسطات المثلث ABC
 - 3- حدد معادلة ديكارتية للارتفاع المار من A

3- شرط تعامد مستقيمين

خاصية

في مستوى منسوب إلى معلم م.م نعتبر
حيث $(D): ax + by + c = 0$ و $(D'): a'x + b'y + c' = 0$; $(a;b) \neq (0;0)$; $(a';b') \neq (0;0)$
 $(D) \perp (D') \Leftrightarrow aa' + bb' = 0$

نتيجة

$$(D): y = mx + p \quad (D'): y = m'x + p'$$
$$(D) \perp (D') \Leftrightarrow mm' = -1$$

4- مسافة نقطة عن مستقيم

نشاط

المستوى (P) منسوب إلى معلم متعامد ممنظم $(O; \vec{i}; \vec{j})$. (D) المستقيم المار من $B(x_B; y_B)$ و $\vec{n}(a;b)$ منظمية عليه. لتكن نقطة من المستوى $A(x_0; y_0)$ ، المسقط العمودي للنقطة A على (D) .

أ- أحسب $\vec{n} \cdot \overrightarrow{BA}$ بدلالة \vec{n} و \overrightarrow{HA}

ب- أثبت أن $HA = \frac{|\vec{n} \cdot \overrightarrow{BA}|}{\|\vec{n}\|}$

د- ليكن $(D): ax + by + c = 0$ حيث $(a;b) \neq (0;0)$

بين أن $HA = \frac{|ax_0 + by_0 + c|}{\sqrt{a^2 + b^2}}$

خاصية

المستوى (P) منسوب إلى معلم متعامد ممنظم $(O; \vec{i}; \vec{j})$
ليكن $(D): ax + by + c = 0$ حيث $(a;b) \neq (0;0)$ و $A(x_0; y_0)$ نقطة من المستوى
مسافة النقطة A عن المستقيم (D) هي $d(A; (D)) = \frac{|ax_0 + by_0 + c|}{\sqrt{a^2 + b^2}}$

تمرين

$$A(-2;3) ; (D): 3x - 4y + 1 = 0$$

$$\text{حدد } d(A; (D))$$

تمرين

أحسب احداثي النقطة H المسقط العمودي للنقطة $A(-3;5)$ على المستقيم $(D): x - 2y + 8 = 0$